





Umkehraufgaben

 $3 + 2 = 5$	 $4 + 3 = 7$
 $5 - 2 = 3$	 $7 - 3 = 4$

Diese Aufgaben heißen Umkehraufgaben.

Erkläre, was passiert.

Aufgabe 1

Finde selbst die Umkehraufgaben.

$3 + 5 =$	$2 + 6 =$	$3 + 0 =$	$3 + 6 =$	$4 + 4 =$
$8 - 5 =$	$8 - =$	$- =$		

$7 + 2 =$	$3 + 3 =$	$5 + 4 =$	$1 + 5 =$	$2 + 8 =$

Aufgabe 2

Färbe die Umkehraufgaben in der gleichen Farbe.

$1 + 6 =$	$6 + 4 =$	$10 - 5 =$	$2 + 4 =$
$10 - 4 =$	$5 + 5 =$	$7 - 6 =$	$6 - 4 =$